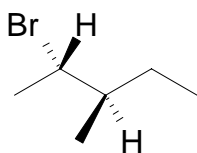
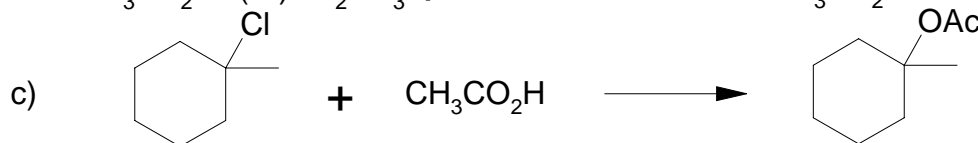
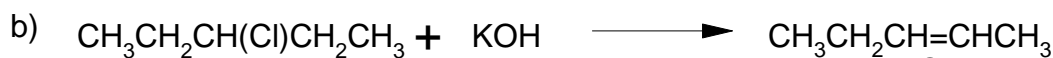


71. Che stereochimica ci si attende per l'alchene derivante dall'(1S,2S)-1,2-dibromo-1,2-difeniletano per eliminazione E2

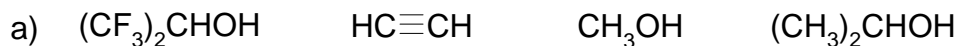
72. Stereochimica ci si attende per l'alchene trisostituito che si ottiene per eliminazione E2 del seguente alogenuro alchilico trattato con KOH?



73. Dire se ciascuna delle seguenti reazioni procede con meccanismo S_N1, S_N2, E1 o E2:

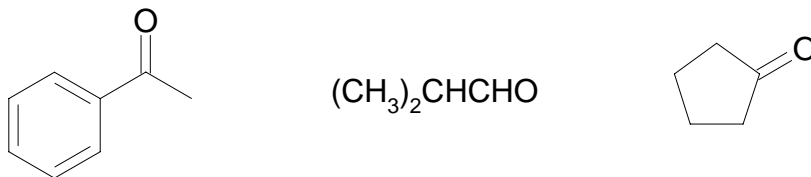


74. Disporre i seguenti composti in ordine di acidità crescente:

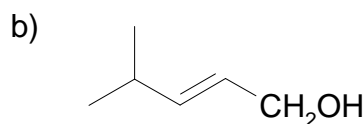
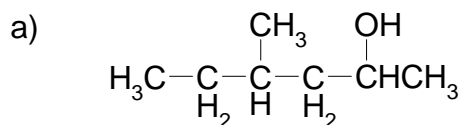


75. Che prodotto si ottiene dalla disidratazione acida di 2-metil-3-pentanololo?

76. Per ossidazione di quali sostanze si ottengono i seguenti composti:



77. Quali composti carbonilici si dovrebbero ridurre per ottenere i seguenti alcol?



78. Come si può eseguire la seguente trasformazione, che costituisce uno stadio della sintesi del (S)-ibuprofene?

